

ΕΠΑΝΑΛΗΠΤΙΚΕΣ ΑΣΚΗΣΕΙΣ ΓΙΑ ΤΟ ΠΑΣΧΑ ΣΤΗ ΓΛΩΣΣΑ ΚΑΙ ΣΤΑ ΜΑΘΗΜΑΤΙΚΑ ΤΗΣ Β' ΔΗΜΟΤΙΚΟΥ



ΓΛΩΣΣΑ

1. Γράψε τι βλέπεις σε κάθε εικόνα.



2. Να συμπληρώσεις τα κενά με τους κατάλληλους τύπους του ρήματος είμαι.

Θα κοιμηθώ νωρίς απόψε γιατί _____ πολύ κουρασμένη.

Η Αναστασία _____ δέκα χρονών.

Εγώ _____ επτά ετών.

Εσύ πόσο χρονών _____;

Εμείς _____ εδώ.

Οι υπόλοιποι πού _____;

Γιατί δεν _____ στην τάξη; μας φώναξε η δασκάλα.

3. Μπορείς να βάλεις τις λέξεις **τον** και **των** στη σωστή τους θέση;

✦ Ζητήσαμε βοήθεια από Κώστα, για να βρούμε τη λύση

.....προβλημάτων του βιβλίου μαθηματικών.

✦ Από ανεμοστρόβιλο γκρεμίστηκαν οι στέγες σπιτιών και έπεσαν οι κορμοί δέντρων.

✦ Η διακήρυξη δικαιωμάτων ζών λέει: «Κάθε ζώο δικαιούται φροντίδας, προσοχής και προστασίας από άνθρωπο».

✦ Η Χωχαρούπα είναι η χώρα χαρούμενων παιδιών, της αγάπης, της ειρήνης και γλυκών ζαχαρωτών.

4. Διόρθωσε τις λέξεις και συλλάβισε:

τέσσερα _____
σύνεφο _____
διάλειμα _____
Σάβατο _____
Ελλάδα _____
θάλασσα _____
άμος _____
παπούς _____

5. Να κλίνεις τα ουσιαστικά: ο δεινόσαυρος, ο ψαράς, ο ναύτης

ΕΝΙΚΟΣ		ΑΡΙΘΜΟΣ	
ον. ο δεινόσαυρος	ον. ο ψαράς	ον. ο ναύτης	
γεν.	γεν.	γεν.	
αιτ.	αιτ.	αιτ.	
κλητ.	κλητ.	κλητ.	
ΠΛΗΘΥΝΤΙΚΟΣ		ΑΡΙΘΜΟΣ	
ον.	ον.	ον.	
γεν.	γεν.	γεν.	
αιτ.	αιτ.	αιτ.	
κλητ.	κλητ.	κλητ.	

6. Να συμπληρώσετε τις προτάσεις με τα άρθρα της ή τις.

Τα παιδιά μαζεύουν _____ πέτρες _____ αυλής.

Κάποιος χτυπά _____ καμπάνες _____ εκκλησίας.

Έβαλαν ιώδιο στις πληγές _____ Κατερίνας.

Πήγαμε στο σπίτι _____ Άννας και παίξαμε με _____ κούκλες _____.

Στην παραλία _____ Αίγινας πέρασα _____ πιο ωραίες μέρες των διακοπών.

7. Μπορείς να συμπληρώσεις τις στήλες;

	<u>Ποιος</u> κάνει κάτι; ΥΠΟΚΕΙΜΕΝΟ	<u>Τι</u> κάνει ; ΡΗΜΑ
Ο σκύλος γαβγίζει δυνατά.		
Τα παιδιά παίζουν κρυφτό.		
Οι νοικοκυρές βάζουν τα αυγά.		

8. Συμπλήρωσε τα κενά με τα κατάλληλα τοπικά επιρρήματα:



Η εφημερίδα είναι _____ από τον καναπέ.



Τα γυαλιά μου είναι _____ στο συρτάρι.



Το ψυγείο είναι _____ στην κουζίνα.



Το παλτό είναι _____ στην ντουλάπα.



Το σπίτι του Γιάννη είναι _____ από το σπίτι
Χρήστου.



Η τσάντα είναι _____ από την καρέκλα.



Το αυτοκίνητο της Κατερίνας είναι _____ στο γκαρ



Ο καναπές είναι _____ από την πολυθρόνα.



Το σούπερ μάρκετ είναι _____ στο φαρμακείο.



Το σπίτι της Δάφνης είναι _____ στο σπίτι της Εύας
στο σπίτι του Μάρκου.



Ο Γιάννης είναι _____ στο σούπερ μάρκετ.

9. Μπορείς να κλίνεις τα ουσιαστικά;

ΕΝΙΚΟΣ		ΑΡΙΘΜΟΣ	
ον. η λίμνη		ον. η θάλασσα	
γεν.		γεν.	
αιτ.		αιτ.	
κλητ.		κλητ.	
ΠΛΗΘΥΝΤΙΚΟΣ		ΑΡΙΘΜΟΣ	
ον.		ον.	
γεν.		γεν.	
αιτ.		αιτ.	
κλητ.		κλητ.	

10. Μπορείς να σχηματίσεις σύνθετες λέξεις;

σπανάκι πίτα τυρί χιόνι
βροχή ντομάτα σαλάτα
ανοίγω βγαίνω κλείνω μπαίνω
άσπρος μαύρος ανεβαίνω
κατεβαίνω τρέμω σβήνω

11. Να κλίνεις τα ρήματα:

εγώ παίζω		
εσύ		
αυτός		αυτός γράφει
εμείς		
εσείς	εσείς κοιτάζετε	
αυτοί		

12. Τι ώρα είναι;









ΜΑΘΗΜΑΤΙΚΑ




1. Μέτρησα τις ελιές στο κτήμα του παππού μου και βρήκα ότι ήταν 48.
Μέτρησα και τις πορτοκαλιές και ήταν οι μισές. Πόσες ήταν οι πορτοκαλιές;

Λύνω:


Απάντηση: _____

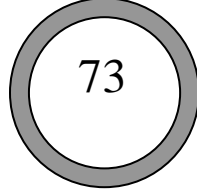
2. Συμπλήρωσε τον πίνακα.

Κοστίζει	Έχω	Ρέστα
 1 € 25 λ.		


 <p>73 λ.</p>		27 λ.
 <p>2 € 30 λ.</p>		


3. Συμπληρώνω τους αριθμούς που λείπουν.

$87 - \dots - \dots$		$100 - \dots - \dots$
$5 + \dots + \dots$		$9 + \dots + \dots$

$85 - \dots - \dots$		$100 - \dots - \dots$
$62 + \dots + \dots$		$40 + \dots + \dots$

4. Συμπληρώνω τους αριθμούς που λείπουν.

$(7 \times 10) - \dots$		$(7 \times 8) + \dots$
$(5 \times 11) + \dots$		$(6 \times 7) + \dots$

$(4 \times 10) - \dots$		$(3 \times 8) + \dots$
$(2 \times 11) + \dots$		$(2 \times 9) + \dots$

5. Συμπληρώστε τα παρακάτω.

$3 \times 7 =$	$4 \times 0 =$	$6 \times 4 =$	$(2 \times 7) + 5 =$
$4 \times 4 =$	$6 \times 7 =$	$8 \times 2 =$	$(7 \times 6) + 12 =$
$9 \times 4 =$	$7 \times 7 =$	$9 \times 6 =$	$4 \times 7) + 30 =$
$8 \times 4 =$	$8 \times 3 =$	$3 \times 7 =$	$(5 \times 8) + (4 \times 4) =$
$6 \times 5 =$	$2 \times 6 =$	$5 \times 8 =$	