

ΑΣΚΗΣΕΙΣ ΣΤΗΝ Α΄ ΔΗΜΟΤΙΚΟΥ

ΟΝΟΜΑΤΕΠΩΝΥΜΟ ΜΑΘΗΤΗ: _____

ΓΛΩΣΣΑ

1) ΑΝΑΓΝΩΣΗ – ΚΑΤΑΝΟΗΣΗ

Διάβασε δυνατά τις φωνούλες και τις λέξεις:

πα

πανί

μαμά

ένα

όλα

κότα

σάκος

νάνος

ώρα

έξω

ψάρι

πράμα

χόρτα

ουρά

βάρκα

γιατί

χάδια

καρότα

καμήλα

σανίδα

αλεπού

σύννεφο

παραλία

θερμόμετρο

ιπποπόταμος

2) ΓΡΑΦΗ

Αντίγραψε την παρακάτω πρόταση μία φορά:

Ξέρω ένα παραμύθι για το καλοκαίρι.

3) ΟΡΘΟΓΡΑΦΙΑ

Γράψε τις λέξεις και την πρόταση που ακούς:

4) ΠΑΡΑΓΩΓΗ ΑΠΛΟΥ ΚΕΙΜΕΝΟΥ

Γράψε τι σου αρέσει πιο πολύ στο σχολείο σου.

ΜΑΘΗΜΑΤΙΚΑ

1) ΑΠΑΡΙΘΜΗΣΗ ΜΕΧΡΙ ΤΟ 100

- Μέτρησε δυνατά από το 1 έως το 100
- Γράψε τους αριθμούς από το 10 έως το 50 μετρώντας ανά 5

2) ΠΡΟΣΘΕΣΕΙΣ – ΑΦΑΙΡΕΣΕΙΣ

$7 + 2 = \underline{\quad}$

$9 - 3 = \underline{\quad}$

23

39

44

83

$8 + 4 = \underline{\quad}$

$15 - 7 = \underline{\quad}$

$\underline{+12}$

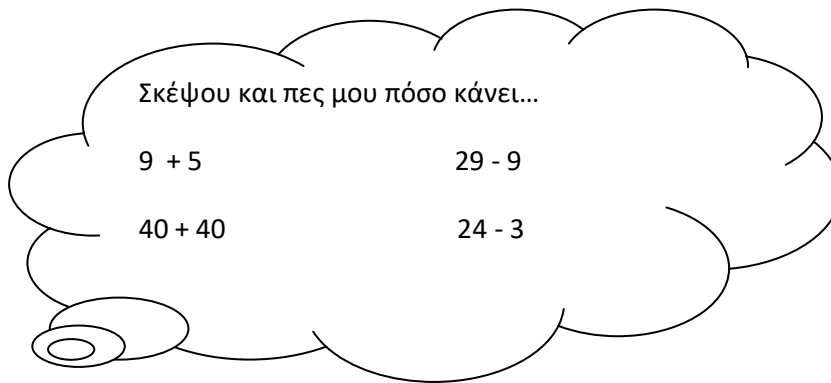
$\underline{+26}$

$\underline{-21}$

$\underline{-15}$

$20 + 30 = \underline{\quad}$

$80 - 60 = \underline{\quad}$



3) ΔΙΠΛΑ ΑΘΡΟΙΣΜΑΤΑ

$5 + 5 = \underline{\quad}$

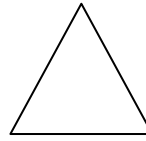


$20 + 20 = \underline{\quad}$

$50 + 50 = \underline{\quad}$

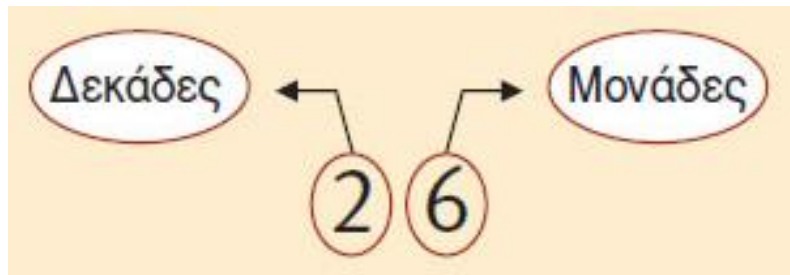
$3 + 3 = \underline{\quad}$

4)ΓΕΩΜΕΤΡΙΚΑ ΣΧΗΜΑΤΑ

Πως λέγονται τα παρακάτω σχήματα;



5)ΔΙΑΚΡΙΣΗ ΔΕΚΑΔΩΝ – ΜΟΝΑΔΩΝ



Βρίσκω τις δεκάδες και τις μονάδες. Συμπληρώνω τις ισότητες.

- Το **27** έχει ... δεκάδες και ... μονάδες.

$$27 = 10 + 10 + 7$$

- Το **14** έχει

$$14 \quad \quad \quad =$$

.....

- Το **22** έχει

$$22 \quad \quad \quad =$$

.....

6)ΕΝΝΟΙΕΣ ΜΙΣΟ ΚΑΙ ΔΙΠΛΑΣΙΟ

Βρες και γράψε...

- το μισό των αριθμών

10: ____

8: ____

100: ____

30: ____

50: ____

- Το διπλάσιο των αριθμών

7: ____

40: ____

22: ____

7)ΣΥΓΚΡΙΣΗ ΜΕ ΣΥΜΒΟΛΑ ΑΝΙΣΟΤΗΤΑΣ

Σύγκρινε τους αριθμούς χρησιμοποιώντας τα σύμβολα $>$ $<$ $=$

$17 \text{ ___ } 7$

$78 \text{ ___ } 87$

$23 \text{ ___ } 45$

$15 \text{ ___ } 15$

8)ΠΡΟΗΓΟΥΜΕΝΟΣ – ΕΠΟΜΕΝΟΣ ΑΡΙΘΜΟΣ

Γράψε τον προηγούμενο και τον επόμενο αριθμό:

___7___

___30___

___23___

___45___

___100___

9)ΠΡΟΣΑΝΑΤΟΛΙΣΜΟΣ ΣΤΟ ΧΩΡΟ

Συμπλήρωσε τα κενά των προτάσεων με τις λέξεις *πάνω*, *κάτω*, *δεξιά*, *αριστερά* αφού πρώτα παρατηρήσεις καλά την εικόνα:

- Το μήλο βρίσκεται _____ στο τραπέζι.
- Η μπάλα βρίσκεται _____ το τραπέζι.
- Η γάτα βρίσκεται _____ από την κούκλα.
- Το αγόρι βρίσκεται _____ από το τραπέζι.



10)ΕΥΡΩ

**Ανταλλάσσω καθένα από τα παρακάτω νομίσματα με νομίσματα του 1 €.
Σχεδιάζω τα νομίσματα.**



1



11)ΑΠΛΑ ΠΡΟΒΛΗΜΑΤΑ

➤ Η Αφροδίτη έχει 8 αυτοκόλλητα και η φίλη της της έδωσε ακόμα 4. Πόσα αυτοκόλλητα έχει τώρα η Αφροδίτη;

➤ Ο μανάβης της γειτονιά μου πούλησε από τα 20 κιλά ντομάτες που είχε τα 7 κιλά. Πόσα κιλά ντομάτες του έμειναν;